





Nombre del docente:
Evelyn Fernández

Asignatura:
Matemática

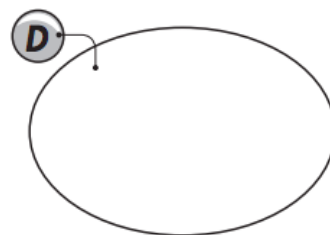
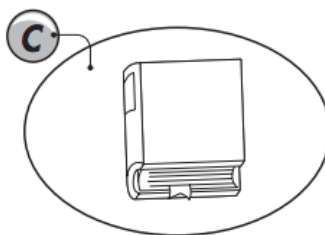
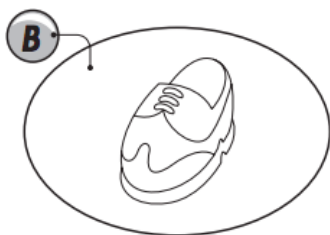
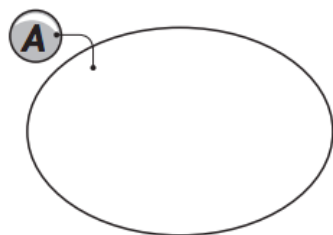
Segundo Primaria

Nombre: _____ Fecha: _____

1. Colorea el árbol que está vacío.



2. Rodea los conjuntos unitarios. Marca con X los conjuntos vacíos.



3. Realiza las operaciones. Luego une con una línea, el dígito que corresponde al resultado de cada adición.

$$\begin{array}{r} 44 \\ + 28 \\ \hline \end{array}$$

$$\begin{array}{r} 58 \\ + 29 \\ \hline \end{array}$$

$$\begin{array}{r} 66 \\ + 26 \\ \hline \end{array}$$

$$\begin{array}{r} 75 \\ + 27 \\ \hline \end{array}$$

$$\begin{array}{r} 13 \\ + 29 \\ \hline \end{array}$$

102

70

90

92

72

87

42

4. Marca con X el resultado correcto de cada multiplicación

6 x 3		
18	24	16

9 x 8		
75	82	72

4 x 8		
32	36	34

3 x 9		
33	27	29

6 x 7		
42	37	39

5 x 5		
55	35	25

8 x 5		
45	50	40

7 x 9		
65	63	79

5. Resuelve correctamente las siguientes restas.

$$\begin{array}{r} 65 \\ - 45 \\ \hline \end{array}$$

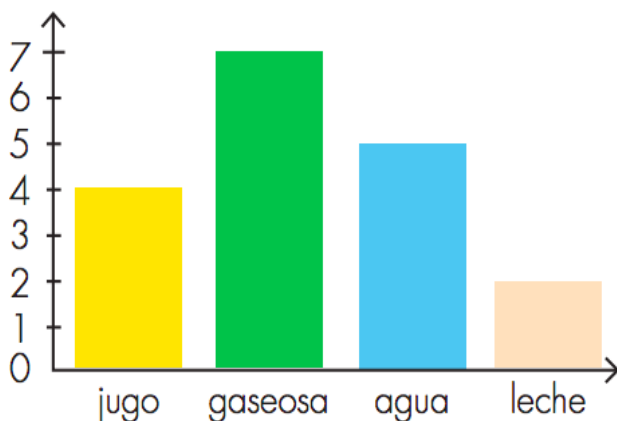
$$\begin{array}{r} 86 \\ - 34 \\ \hline \end{array}$$

$$\begin{array}{r} 51 \\ - 20 \\ \hline \end{array}$$

$$\begin{array}{r} 39 \\ - 22 \\ \hline \end{array}$$

6. Observa la gráfica. Luego, responde.

Bebidas preferidas de estudiantes de segundo grado



○ ¿Cuál es la bebida preferida?

○ ¿Y la de menor preferencia?

○ ¿Cuántos estudiantes prefieren la leche?
